

МАТЕМАТИКА

1. Задатак

Пронађи слику која нема пар - вежбе концентрације



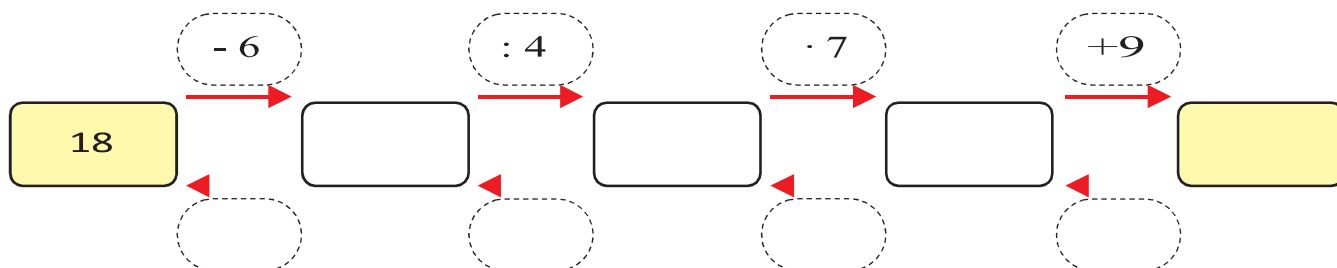
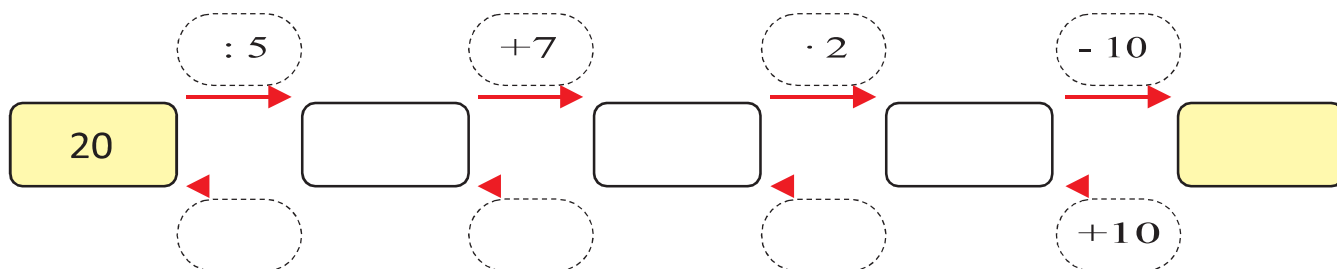
2. Задатак :

Пронађи 10 разлика између ове две слике



3. Задатак :

Израчунај и упиши бројеве. Прати стрелице. У реду испод користиш супротну операцију, као што је започето.



4. Задатак

Пронађи поље у којем се налази приказани део слике, па помножи бројеве који се налазе лево и изнад тог поља.

3

8


5

7

8

9

10



$\times =$




$\times =$




$\times =$



$\times =$




$\times =$



$\times =$



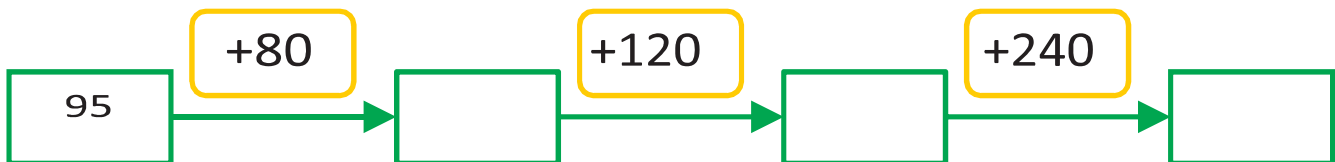
$\times =$

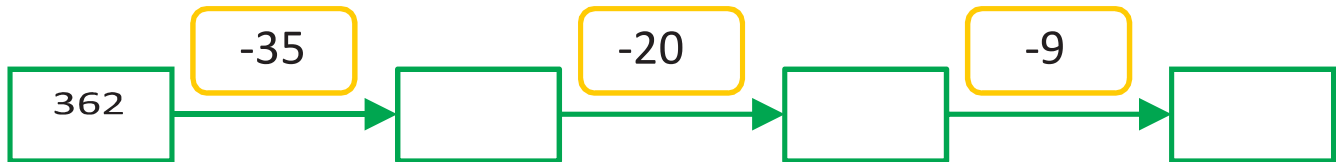
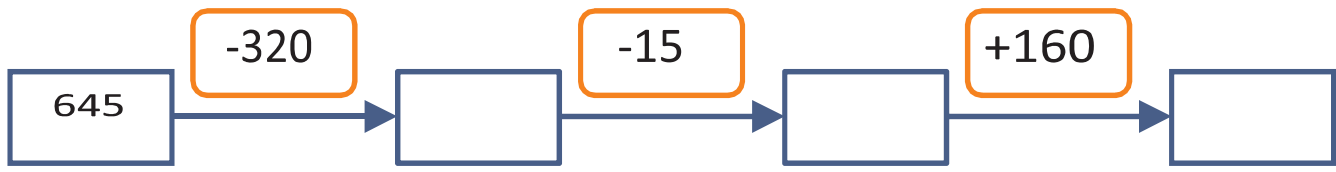


$\times =$

5. Задатак

Израчунај (прикажи поступак рачунања)





Зоки, имаш доста примера сабирања и одузимања ради полако, не жури.
Када завршиш пошаљи м да погледам шта си урадио.